



Kuratorium Oświaty
w Szczecinie

Konkurs Geograficzny
dla uczniów szkół podstawowych województwa zachodniopomorskiego
w roku szkolnym 2024/2025

Etap wojewódzki

Drogi Uczniu!

Gratulujemy Ci wyników osiągniętych na etapie rejonowym.

Przed przystąpieniem do pracy z testem **zakoduj swoje dane na karcie odpowiedzi do zadań zamkniętych, a także wpisz swój kod na karcie odpowiedzi do zadań otwartych**, zgodnie z poleceniem komisji konkursowej.

Za chwilę będziesz rozwiązywać test, który składa się z **35 zadań**. Punktacja za każde zadanie jest podana przy jego numerze.

Zadania 1-15 to zadania zamknięte. Każde zawiera **cztery odpowiedzi**, z których **tylko jedna jest poprawna**. Znajdź ją i zaznacz wyłącznie na załączonej **karcie odpowiedzi do zadań zamkniętych**. W przypadku pomyłki błędną odpowiedź obwiedź kółkiem i zaznacz nową, poprawną. Jeżeli zaznaczysz więcej niż jedną odpowiedź bez wskazania, która jest prawidłowa, to żadna z nich nie będzie uznana.

Zadania 16-35 to zadania otwarte lub zamknięte. Odpowiedzi na nie udzielaj wyłącznie na **karcie odpowiedzi do zadań otwartych**.

Pracuj spokojnie i uważnie. W czasie rozwiązywania zadań możesz używać linijki i prostego kalkulatora. Na karcie odpowiedzi nie używaj ołówka, gumki ani korektora. Po zakończeniu pracy sprawdź, czy udzieliłeś wszystkich odpowiedzi.

Na rozwiązanie zadań masz **120 minut**.

Powodzenia!

Zadanie 1. (0-1 pkt)

Która z wymienionych planet Układu Słonecznego jest najcieplejsza?

- A. Merkury
- B. Wenus
- C. Mars
- D. Jowisz

Zadanie 2. (0-1 pkt)

Jaki styl architektoniczny reprezentuje Bazylika Archikatedralna świętego Jakuba Apostoła w Szczecinie, drugi po bazylice licheńskiej pod względem wysokości kościół w Polsce, poświęcona w 1187 r.?

- A. romański
- B. gotyk
- C. renesans
- D. barok

Zadanie 3. (0-1 pkt)

Wskaż państwo, którego stolicą jest Abudża.

- A. Niger
- B. Etiopia
- C. Nigeria
- D. Kongo

Zadanie 4. (0-1 pkt)

Najwyżej położonym jeziorem świata jest:

- A. Jezioro Maracaibo
- B. Jezioro Michigan
- C. Jezioro Wiktorii
- D. Jezioro Titicaca

Zadanie 5. (0-1 pkt)

Który surowiec mineralny wydobywany jest w Zagłębiu Ruhry?

- A. boksyty
- B. ropa naftowa
- C. rudy uranu
- D. węgiel kamienny

Zadanie 6. (0-1 pkt)

W której grupie państw językiem urzędowym jest portugalski?

- A. Indie, Pakistan, Iran
- B. Brazylia, Mozambik, Angola
- C. Bangladesz, Wenezuela, Meksyk
- D. Chile, Portugalia, Argentyna

Zadanie 7. (0-1 pkt)

Jakie jest główne źródło energii dla procesów meteorologicznych na Ziemi?

- A. ciepło geotermalne
- B. energia kinetyczna wiatru
- C. promieniowanie słoneczne
- D. woda w oceanach

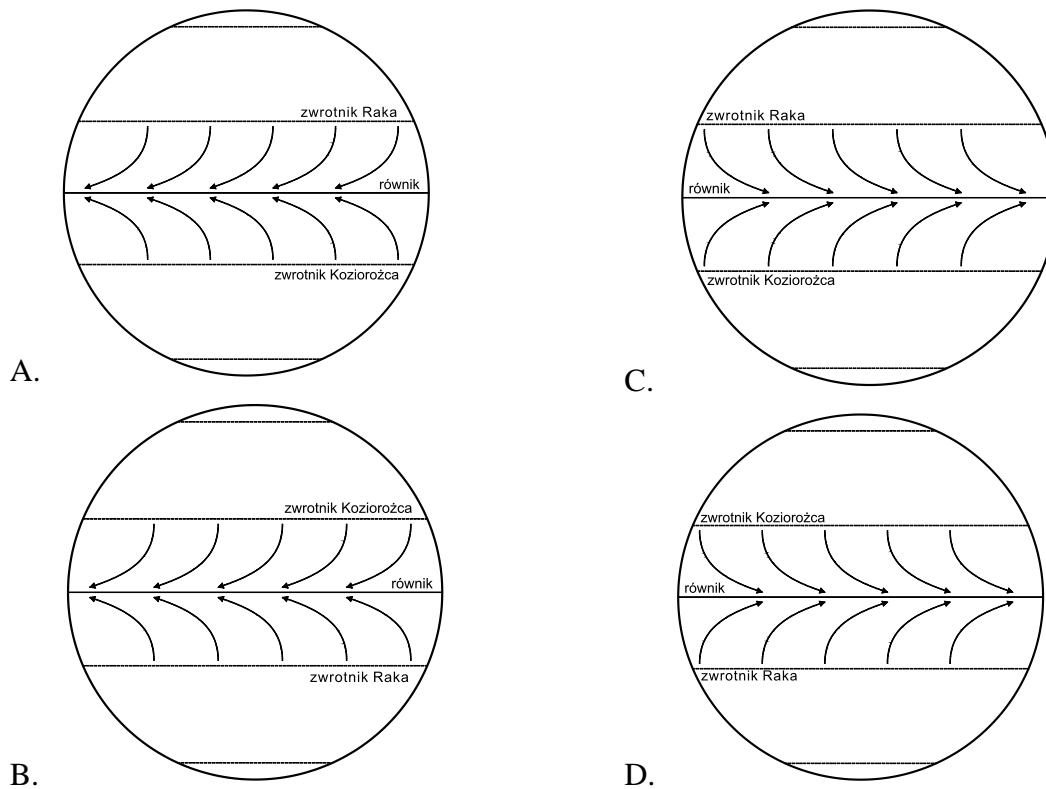
Zadanie 8. (0-1 pkt)

W którym roku wprowadzono w Polsce obecny podział administracyjny?

- A. 1999
- B. 1975
- C. 1989
- D. 2000

Zadanie 9. (0-1 pkt)

W strefie międzyzwrotnikowej w kształtowaniu klimatu ważną rolę odgrywają wiatry pasaty. Który rysunek przedstawia poprawnie narysowane pasaty?



Zadanie 10. (0-1 pkt)

Sawanna to obszar porośnięty trawami, w niektórych regionach nosi lokalne nazwy.

Wybierz spośród podanych formację niebędącą sawanną.

- A. pampa
- B. campos
- C. tundra
- D. preria

Zadanie 11. (0-1 pkt)

Granice Polski dzielą się na naturalne i sztuczne. Naturalne granice naszego kraju wyznaczają m.in.:

- A. Odra, Noteć, Bug
- B. Bug, Odra, Nysa Łużycka
- C. Odra, Noteć, Wisła
- D. Wisła, Warta, Nysa Łużycka

Zadanie 12. (0-1 pkt)

W Polsce dominują jeziora typu:

- A. deltowego
- B. przybrzeżnego
- C. zaporowego
- D. polodowcowego

Zadanie 13. (0-1 pkt)

Najwyższy szczyt Antarktydy to:

- A. Masyw Vinsona
- B. Góry Ellswartha
- C. Erebus
- D. Ziemia Wiktorii

Zadanie 14. (0-1 pkt)

Wybierz prawidłowe dokończenie zdania.

Jako pierwszy do Bieguna Południowego dotarł...

- A. Marek Kamiński w 1995r.
- B. Roald Amundsen w 1898r.
- C. Robert E. Peary w 1909r.
- D. Roald Amundsen w 1911r.

Zadanie 15. (0-1 pkt)

Latem w Bieszczadach dzień jest krótszy niż w Łebie o ponad jedną godzinę, co wynika z położenia Bieszczad.....

- A. na wschód od Łeby
- B. w strefie czasu wschodnioeuropejskiego
- C. na obszarze o większych wysokościach bezwzględnych
- D. w niższych szerokościach geograficznych

Zadanie 16. (0-1 pkt)

Miesiąc	I	II	III	IV	V	VI	VII	VIII	IX	X	XI	XII
Temperatura °C	-4,0	-2,1	1,9	5,6	12,4	14,9	19,3	21,0	15,1	9,6	2,3	-3,8

Tabela przedstawia średnią temperaturę powietrza w poszczególnych miesiącach.

Klimatyczne (termiczne) lato trwa:

- A. 3 miesiące
- B. 4 miesiące
- C. 2 miesiące
- D. 5 miesięcy

Zadanie 17. (0-1 pkt)

Które z wymienionych państw nie należy do Unii Europejskiej?

- A. Ukraina
- B. Polska
- C. Niemcy
- D. Włochy

Zadanie 18. (0-1 pkt)

Podkreśl zestawienie, w którym poprawnie nazwano kolejno występujące piętra roślinne w Tatrach, począwszy od nazwy piętra znajdującego się najniżej.

- A. pogórze, regiel dolny, regiel górny, kosodrzewina, hale, turnie
- B. pogórze, regiel dolny, regiel górny, hale
- C. hale, pogórze, kosodrzewina, regiel dolny, regiel górny, turnie
- D. pogórze, kosodrzewina, regiel dolny, regiel górny, hale, turnie

Zadanie 19. (0-1 pkt)

Które z wymienionych rzek mają ujście lejkowate:

- A. Urugwaj, Orinoko, Niger
- B. Tamiza, Amazonka, Nil
- C. Sekwana, Łaba, Parana
- D. Garonna, Ganges, Missisipi

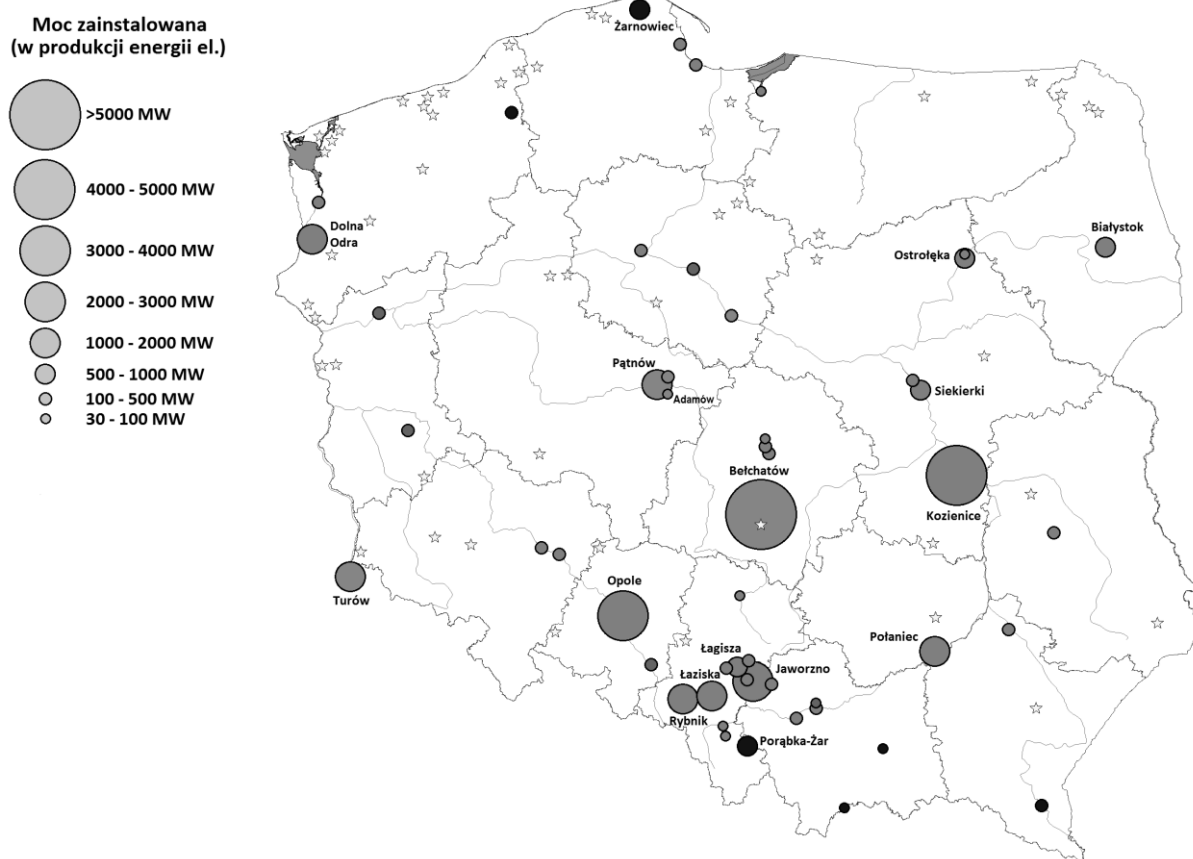
Zadanie 20. (0-2 pkt)

Do formacji roślinnej przyporządkuj podane gatunki roślin:

- | | |
|------------|---------------------|
| A. sawanna | 1. tulipan |
| B. step | 2. brzoza karłowata |
| C. tundra | 3. modrzew |
| D. tajga | 4. akacja |
| | 5. epifity |

A..... B..... C..... D.....

Zadanie 21. (0-3 pkt)



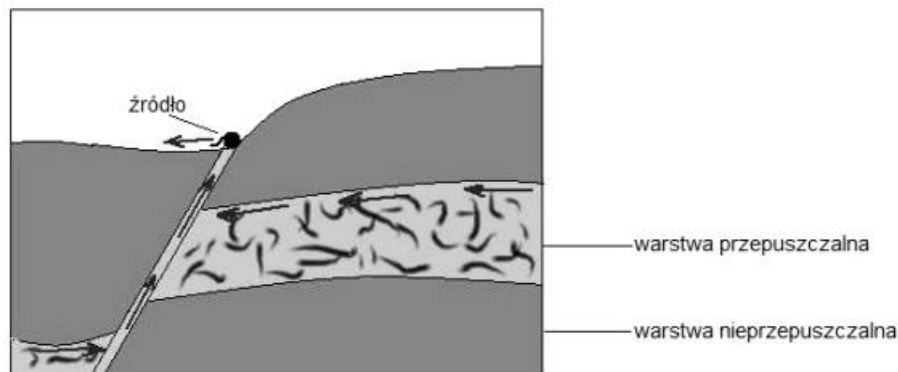
Wpisz w odpowiednie miejsca elektrownie:

Adamów, Dolna Odra, Jaworzno, Koronowo, Pątnów, Turów, Włocławek, Żarnowiec.

opalone węglem brunatnym	opalone węglem kamiennym	hydroelektrownie

Zadanie 22. (0-3 pkt)

Na rysunku przedstawiono warunki sprzyjające powstaniu jednego z rodzajów źródeł. Strzałki ukazują kierunek przemieszczania się wody.



Uzupełnij poniższe zdania, wpisując właściwe określenia dobrane spośród podanych w nawiasach.

1. Na rysunku przedstawiono warunki sprzyjające powstaniu źródła (warstwowego/uskokowego)
2. Źródło to jest efektem (ruchów tektonicznych / procesów krasowych)
.....
3. W typie źródła przedstawionym na rysunku woda wypływa na powierzchnię pod wpływem działania (ciśnienia hydrostatycznego / siły ciężkości)

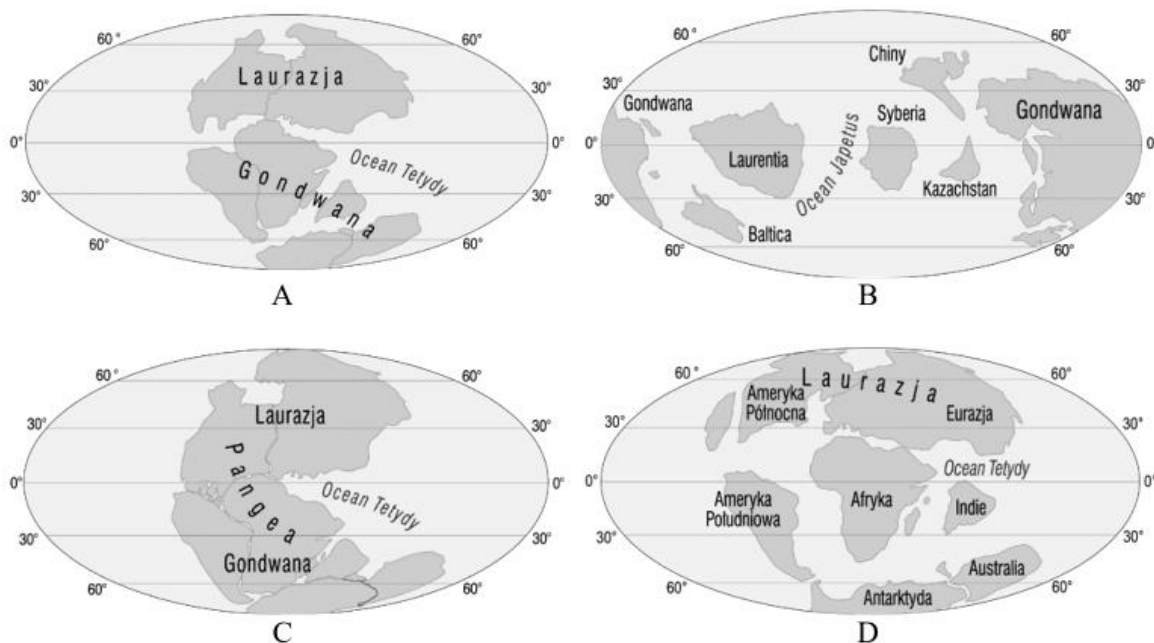
Zadanie 23. (0-2 pkt)

Oblicz współczynnik przyrostu rzeczywistego w województwie śląskim, wiedząc, że w 2018 r. urodziło się tam 42 596 osób, a zmarło 52 159 osób. Liczba ludności tego województwa wynosiła wówczas 4 533 565, z kolei saldo migracji osiągnęło wartość -5028.

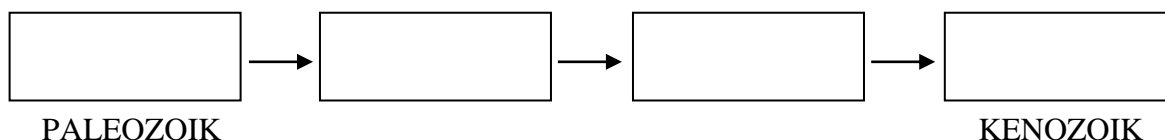
.....
.....
.....
.....
.....
.....

Zadanie 24. (0-2 pkt)

Na rysunkach oznaczonych literami A–D, przedstawiono rozmieszczenie lądów i mórz w różnych okresach geologicznych, od początku paleozoiku po początek ery kenozoicznej (kolejność rysunków przypadkowa).



Uszereguj rysunki tak, aby przedstawiały rozmieszczenie lądów i mórz w kolejności od najstarszego okresu do najmłodszego. Następnie uzupełnij schemat, wpisując w poszczególne komórki właściwe litery.



Zadanie 25. (0-2 pkt)

Powierzchnia rzeczywista jeziora wynosi 12 ha. Mapa jest wykonana w skali 1:20 000.

Oblicz powierzchnię jeziora na mapie.

.....

.....

.....

.....

.....

Zadanie 26. (0-3 pkt)

Uzupełnij zdania poprawnymi informacjami.

Wysokości bezwzględne w Polsce maleją w kierunku

Pod względem ukształtowania powierzchni Polska jest krajem

Najniższy punkt Polski znajduje się w miejscowości
i ma wysokość

Zadanie 27. (0-1 pkt)

Podaj nazwy pasów ukształtowania rzeźby terenu oznaczonych na mapie literami (A-C).

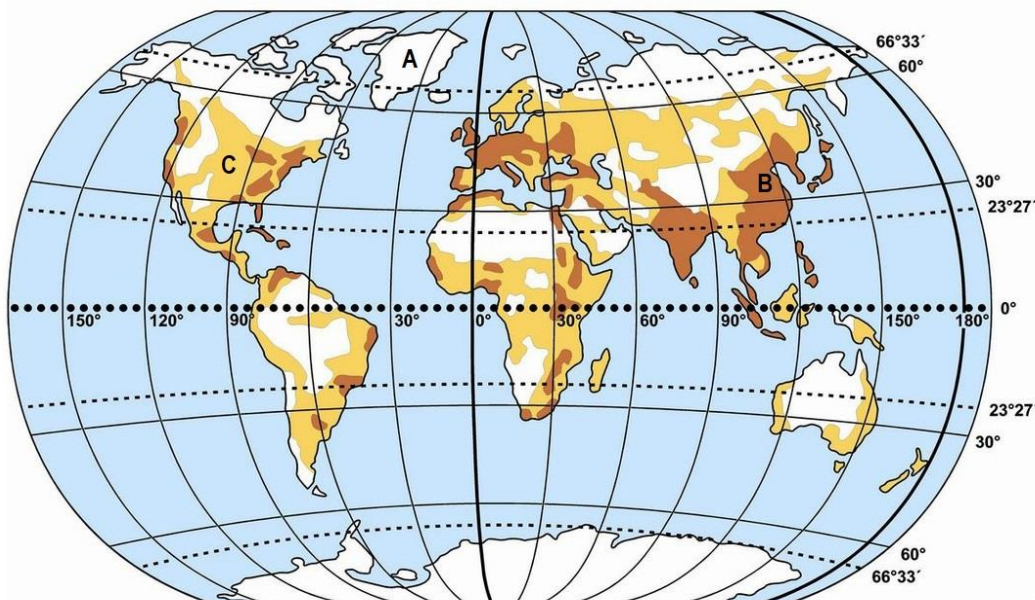


- A.
- B.
- C.

Zadanie 28. (0-2 pkt)

GĘSTOŚĆ ZALUDNIENIA
skala 1: 90 000 000

- obszary gęsto zaludnione
- obszary średnio zaludnione
- obszary słabo zaludnione i bezludne



Przyporządkuj poniższym nazwom obszarów wyróżnionych ze względu na stopień zasiedlenia litery, którymi oznaczono te obszary na mapie.

Ekumena..... Subekumena..... Anekumena.....

Zadanie 29. (0-3 pkt)

Wpisz znak **X** w odpowiednie miejsca tabeli.

Nazwa obiektu geograficznego	Nizina	Wyżyna	Góry	Pustynia
Gobi				
Środkowosyberyjska				
Tien-szan				
Gangesu				
Zatokowa				
Namib				

Zadanie 30. (0-2 pkt)

Uzupełnij poniższe zdania brakującymi informacjami.

Wulkan to miejsce, w którym pod wpływem ogromnego ciśnienia na powierzchnię wydobywa się

Wiele czynnych wulkanów występuje wokół Oceanu Spokojnego, tworząc tak zwany

Zadanie 31. (0-3 pkt)

Uzupełnij tabelę, wpisując w odpowiednie miejsca nazwy gór.

Harz, Himalaje, Ardeny, Góry Skandynawskie, Karpaty, Kordyliery, Ural, Grampian

Orogeneza		
Kaledońska	Hercyńska	Alpejska

Zadanie 32. (0-3 pkt)

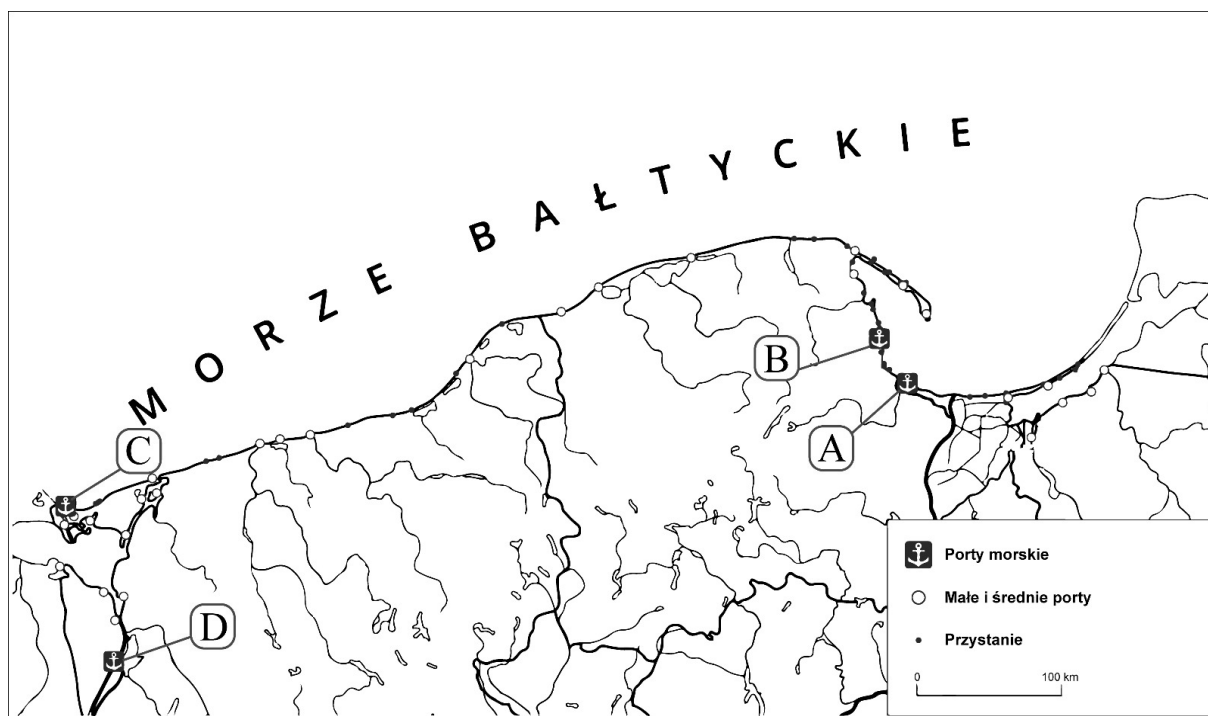
Uzereguj podane miasta Europy od położonych najdalej na północ do położonych najdalej na południe. Wpisz w kratki odpowiednie cyfry.

1. Ateny 2. Budapeszt 3. Sofia 4. Bukareszt 5. Tallinn

północ						południe
--------	--	--	--	--	--	----------

Zadanie 33. (0-2 pkt)

Na mapie literami A-D zaznaczono główne porty morskie Polski.



Podaj nazwy portów zaznaczonych literami A i C.

A.....

C.....

Zadanie 34. (0-1 pkt)

Uzupełnij informacje nt. bilansu handlowego, wykorzystując znaki: <, >, -, =, +.

SALDO BILANSU HANDLOWEGO EKSPORT IMPORT

Zadanie 35. (0-2 pkt)

Na mapie przedstawiono parki narodowe w Polsce. Wprowadź do tabeli numery odpowiadające wskazanym parkom oraz przyporządkuj do każdego z nich odpowiednią literę znajdującą się obok symbolu/logo z listy poniżej.



Numer	Park narodowy	Logo/symbol
	Bieszczadzki PN	
	Drawieński PN	
	Ojcowski PN	
	Świętokrzyski PN	

